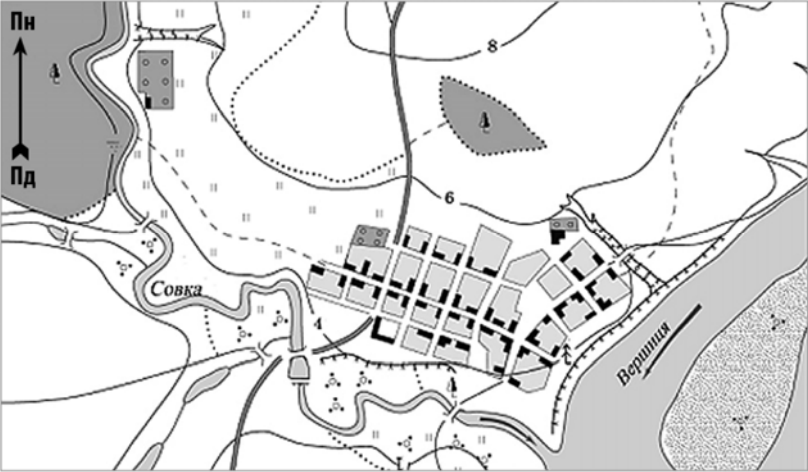
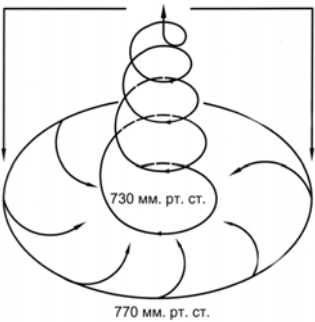





Зовнішнє незалежне оцінювання 2010 р.

Відповіді на завдання тесту з географії

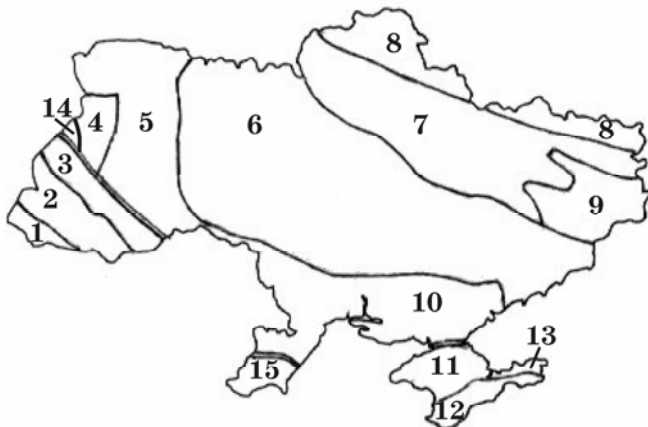
1	<p>Правильність припущення про те, що Земля обертається навколо Сонця, а не Сонце навколо Землі, уперше обґрунтував у своїй книзі</p> <p>Ніколай Копернік.</p>
2	<p>На якому півострові бувають дні, коли сонячні промені падають на дно найглибших колодязів?</p> <p>Сомалі</p>
3	<p>Яка характеристика річки Совки, зроблена за планом місцевості, є правильною?</p>  <p>річка Совка є правою притокою Вершиці</p>
4	<p>Які процеси в літосфері є основною причиною землетрусів на планеті?</p> <p>розривні рухи та зміщення пластів літосфери</p>
5	<p>Де зосереджені найбільші запаси прісної води на планеті?</p> <p>у льодовиках</p>
6	<p>На схемі відображено</p>  <p>730 мм. рт. ст.</p> <p>770 мм. рт. ст.</p>

	циклон Північної півкулі.
7	<p>Як пояснити пристосованість рослин тундри до боротьби із засухами, якщо тундрово-глеєві ґрунти перезволожені?</p> <p>в умовах інтенсивного випаровування холодний ґрунт ускладнює поглинання вологи корінням рослин</p>
8	<p>Який висновок було зроблено М.М. Миклухо-Маклаєм на основі досліджень, проведених на березі затоки Астролябія (нині Берег Маклая)?</p>  <p>виникнення расових відмінностей зумовлене природними умовами життя людей</p>
9	<p>Яка причина утворення стокових вітрів у прибережній зоні Антарктиди?</p> <p>велика різниця атмосферного тиску над внутрішніми областями материка і над оточуючими водами океанів</p>
10	<p>Прочитайте нотатки із щоденника мандрівника: «... біля води зіпнувся на коріння мангровий ліс. По місточках можна дійти до таблички з відомими ще зі шкільних років координатами. Стою на краю материка: попереду ніби пропливають казкової краси острівці, а на північному сході контрастом здіймаються портові крани промислового півдня Сингапуру...». Про який материк і його крайню точку йдеться?</p>  <p>Євразію, мис Піай</p>
11	<p>У процесі вкорінення магми в товщу земної кори по розломах рифтової зони Східної Африки сформувалися родовища</p> <p>мідних і кобальтових руд</p>

12	<p>Якщо на рівнинних просторах серед моря злакових трав з'являється безгорбий верблюд, проноситься пара мустангів, сторожко пригинає голову страус нанду, і лише вітер здаля доносить голоси гаучо, то це – заповідна територія, де охороняється вцілілий острівець</p> <p>пампи Південної Америки</p>															
13	<p>У Центральних районах Аляски з'явилися ділянки лісу, на яких дерева похилені в різні сторони під різними кутами. Науковці назвали першопричину цього явища – глобальне потепління. Який проміжний процес виник унаслідок потепління і спричинив появу «п'яних лісів».</p> <p>танення вічної мерзлоти</p>															
14	<p>Яку тварину було завезено в Америку іспанськими конкістадорами?</p> 															
15	<p>Які острови мають вулканічне походження?</p> <p>Гавайські</p>															
16	<p>Чому Австралія є найпосушливішим материком?</p> <p>територія материка розміщена переважно у тропічному поясі з високим тиском</p>															
17	<p>Територія України удвічі більша за територію</p> <p>Італії.</p>															
18	<p>Розгляньте таблицю, яку склали геологи, досліджуючи відслонення. Визначте сумарну товщину (м) гірських порід палеозойського віку</p> <table border="1" data-bbox="164 1554 1449 1747"> <thead> <tr> <th><i>Порода</i></th> <th><i>Геологічний період</i></th> <th><i>Товщина (м)</i></th> </tr> </thead> <tbody> <tr> <td>Пісок</td> <td>Палеогеновий</td> <td>10</td> </tr> <tr> <td>Вапняк</td> <td>Юрський</td> <td>6</td> </tr> <tr> <td>Вугілля</td> <td>Кам'яновугільний</td> <td>3</td> </tr> <tr> <td>Глина</td> <td>Кембрійський</td> <td>11</td> </tr> </tbody> </table> <p>14 м</p>	<i>Порода</i>	<i>Геологічний період</i>	<i>Товщина (м)</i>	Пісок	Палеогеновий	10	Вапняк	Юрський	6	Вугілля	Кам'яновугільний	3	Глина	Кембрійський	11
<i>Порода</i>	<i>Геологічний період</i>	<i>Товщина (м)</i>														
Пісок	Палеогеновий	10														
Вапняк	Юрський	6														
Вугілля	Кам'яновугільний	3														
Глина	Кембрійський	11														
19	<p>У якому напрямку посилюється континентальність клімату України?</p> <p>з північного заходу на південний схід</p>															
20	<p>Долиною якої річки проходить межа Тернопільської та Хмельницької областей?</p>															

Збруч

- 21 З якими тектонічними структурами, позначеними цифрами на картосхемі, пов'язані основні басейни, райони та родовища залізних руд в Україні



6, 13

- 22 Визначте фізико-географічну провінцію (край) України, для якої характерними є наведені у таблиці типові ґрунти, рослини і тварини.

Ґрунти	Рослини	Тварини
сірі лісові, чорноземи типові	дуб, липа, ковила, типчак, шалфей лучний	перев'язка, хохуля, сапсан, дрофа

Середньоруська лісостепова

- 23 Який бальнеологічний курорт сформувався у Закарпатті?

Шаян

- 24 Укажіть один із основних чинників найвищих в Україні темпів скорочення населення у Чернігівській області.

частка літніх людей вдвічі перевищує частку дітей

- 25 Прикладом розвитку господарства України екстенсивним шляхом є

збільшення кількості виробників будівельних матеріалів

- 26 Які галузі паливної промисловості розвинені у Волинській області?


кам'яновугільна і торфова

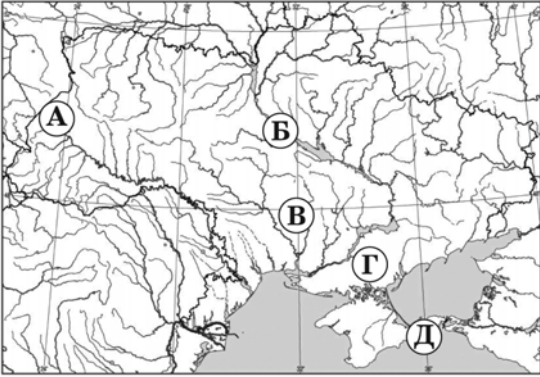
- 27 Який центр енергетичного машинобудування України спеціалізується на виробництві потужних турбін для всіх типів електростанцій?


Харків





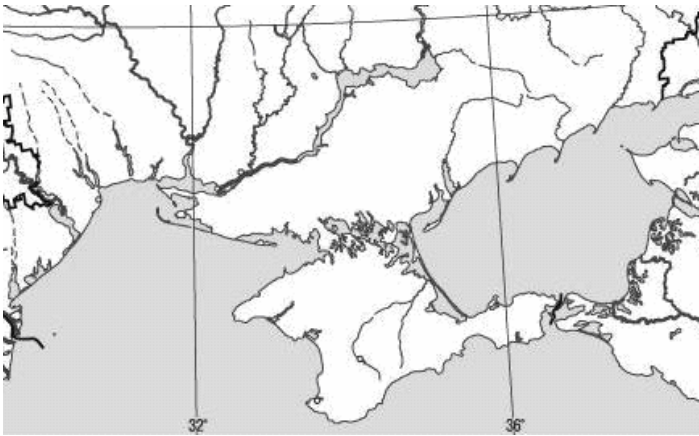
- 28 Житель Черкаської області, обурений тим, що на його земельній ділянці кілька років підряд

	<p>орендар вирощує соняшник, вирішив внести зміни в договір оренди, якщо наступні три роки не буде застосовуватися сівозміна. Порадьте, які сільськогосподарські культури економічно вигідно вирощувати орендарю, враховуючи агрокліматичні ресурси та ґрунти цієї місцевості.</p> <p>пшеницю, цукрові буряки, гречку</p>
29	<p>Меридіональний характер простягання має автомобільна магістраль</p> <p>Київ – Одеса</p>
30	<p>Який економічний район спеціалізується на виробництві лісохімічної продукції?</p> <p>Карпатський</p>
31	<p>Хто з географів досліджував розвиток і розміщення продуктивних сил в Україні, розробив схему її економічного районування?</p> <p>К. Воблий</p>
32	<p>Які риси властиві сучасній світовій економіці?</p> <p>різнорівнева, багатополюсна, асиметрична</p>
33	<p>У виділених на фрагменті карти вирощують</p>  <p>цукрову тростину</p>
34	<p>Виберіть <i>правильне</i> поєднання назви країни, басейну і виду ресурсу.</p> <p>Казахстан – Карагандинський - кам'яне вугілля</p>
35	<p>Яка група чинників обумовила лідерство Китаю та Індії у виробництві бавовняних тканин?</p> <p>сировинний, споживчий, трудових ресурсів</p>
36	<p>Основним чинником розміщення найбільших нафтопереробних комбінатів у містах України, Білорусі, Польщі є</p> <p>транспортно-географічне положення міста</p>

37	<p>Чому райони хімічної промисловості та металургії співпадають в індустріальних країнах?</p> <p>окремі виробництва цих галузей комбінуються</p>
38	<p>Впродовж останніх десятиліть спалахують час від часу прикордонні конфлікти між</p> <p>Індією і Пакистаном</p>
39	<p>У якому районі США знаходиться «автомобільна столиця світу» та «Американський Рур», один з найбільших аеропортів світу «О'Хара» та найбільші в країні ринки пшениці, кукурудзи, сої, худоби?</p> <p>Приозер'ї</p>
40	<p>Для якої країни характерна вказана структура експорту: туристичні послуги, фрукти, вино, сир, пшениця, автомобілі, літаки, сталь, хімікати, ювелірні вироби, шовк?</p> <p>Франції</p>
41	<p>Який федеральний округ Росії має таку ж спеціалізацію обробної промисловості, курортного та сільського господарства, що й Україна, але енергетика орієнтується на власні ресурси нафти та природного газу?</p>  <p>А</p>
42	<p>Яка з указаних акваторій Світового океану має найвищий рівень забруднення нафтопродуктами?</p> <p>Мексиканська затока</p>
43	<p>Установіть відповідність між природними процесами та геосферами, взаємопроникнення та взаємодію яких ці процеси забезпечують.</p> <p>випаровування з поверхні водойм - гідросфера та атмосфера; фізичне вивітрювання - атмосфера та літосфера; ерозія та абразія - гідросфера та літосфера; дихання - біосфера та атмосфера.</p>
44	<p>Установіть відповідність між пустелями світу та <i>типовими</i> представниками рослинного і тваринного світу.</p>

	<p>Велика піщана пустеля - низькорослі евкаліпти, гатерія; Наміб - вельвічія, гієна; Каракуми - саксаул, верблюду; Патагонська пустеля - кактуси, гуанако.</p>
45	<p>Установіть відповідність між інформацією про міста та географічними координатами цих міст</p> <p>місто знаходиться південніше Києва на відстані 450 км – 46° 30' пн.ш., 31° сх.д.;</p> <p>місцевий час у цьому місті випереджає поясний на 18 хв – 48° 30' пн.ш., 35° сх.д.;</p> <p>сонце заходить у цьому місті на 20 хв пізніше, ніж у Києві - 49° 30' пн.ш., 25° 30' сх.д.;</p> <p>кут, під яким завжди спостерігають Полярну зорю у цьому місті, становить 45° - 45° пн.ш., 34° 30' сх.д.</p>
46	<p>Установіть відповідність між назвами заповідників та буквами, якими на карті позначено їхнє місцезнаходження</p>  <p>А – Розточчя Б – Канівський В - Єланецький степ Д - Опукський</p>
47	<p>Установіть відповідність між видами ґрунтів окремих регіонів України і домінуючими процесами, що спричиняють їхню деградацію.</p> <p>дерново-підзолисті ґрунти Волині - заболочення ; чорноземи Донеччини - насипання териконів; сірі лісові ґрунти Поділля - утворення ярів; каштанові ґрунти Таврії - вторинне засолення.</p>
48	<p>Установіть відповідність між річковими системами та височинами, якими проходять вододіли цих річок.</p>

	<p>Прут і Дністер – Хотинська; Дніпро та Південний Буг – Придніпровська; Південний Буг і Дністер – Подільська; Сіверський Донець і Кальміус - Донецька</p>
49	<p>Установіть відповідність між областями України та характерними особливостями систем розселення.</p> <p>Волинська - сільські поселення розміщені на підвищених ділянках, у південних районах області збереглися хутори;</p> <p>Чернівецька - найвища в Україні густота сільського населення; сформувалася сільська агломерація (багатовулицеве скупчення сільських поселень)</p> <p>Донецька - рівень урбанізації 90%; сформувалася найбільша за площею і кількістю населення біцентрична агломерація;</p> <p>Дніпропетровська - найгустіша мережа поселень міського типу; сформувалася поліцентрична агломерація</p>
50	<p>Установіть відповідність між центрами кольорової металургії, позначеними на карті цифрами, та основними видами продукції, яку виробляють розміщені в них підприємства.</p>  <p>1 магній у зливках 2 феронікель, кобальт 3 первинний алюміній, титан 4 цинк</p>
51	<p>Установіть відповідність між портами та країнами, де ці порти розміщені.</p> <p>Роттердам - Нідерланди Ванкувер - Канада Ульсан - Республіка Корея Колката - Індія</p>

52	<p>Установіть відповідність між містами та явищами, які загрожують їхньому існуванню (можуть перетворити їх у міста-привиди).</p> <div style="display: flex; justify-content: space-around; align-items: flex-start;"> <div style="text-align: center;">  <p>Тімбукту, Малі – опустелення</p> </div> <div style="text-align: center;">  <p>Сан-Франциско, США- землетрус</p> </div> <div style="text-align: center;">  <p>Неаполь, Італія - виверження вулкана</p> </div> <div style="text-align: center;">  <p>Банжул, Гамбія затоплення</p> </div> </div>
53	<p>Установіть послідовність дій під час проведення окомірного полярного знімання невеликої території.</p> <ol style="list-style-type: none"> 1 встановити планшет і поставити на ньому точку полюса 2 зорієнтувати планшет і накреслити лінію «північ –південь» 3 за допомогою візирної лінійки визначити напрями на об’єкти і відкласти у масштабі виміряні відстані від точки полюса до об’єктів 4 позначити об’єкти, які потрібно нанести на план, умовними знаками
54	<p>Розмістіть географічні пояси в порядку зростання кількості природних зон, які сформувалися в межах кожного поясу.</p> <ol style="list-style-type: none"> 1 антарктичний 2 субекваторіальний 3 тропічний 4 помірний
55	<p>Біля берега коси Бирючий острів зірвався з якоря буйок, на якому кріпилось попередження про заборону вилову риби у водах Азово-Сиваського заповідника. Установіть послідовність акваторій Азовського та Чорного морів, у яких цей буйок дрейфує за течією.</p>  <ol style="list-style-type: none"> 1 Казантипська затока 2 Керченська протока

	3 Феодосійська затока 4 Каламітська затока															
56	<p>Згідно з державною програмою проекти енергозбереження в Україні будуть першочергово інвестуватися в тих регіонах, де частка електроенергії у собівартості продукції найвища. За даними таблиці установіть черговість економічних районів на отримання державних інвестицій.</p> <table border="1"> <thead> <tr> <th>Економічні райони</th> <th>Валовий регіональний продукт, млрд грн</th> <th>Споживання електроенергії, млрд кВт•год</th> </tr> </thead> <tbody> <tr> <td>Донецький</td> <td>120</td> <td>3,6</td> </tr> <tr> <td>Придніпровський</td> <td>100</td> <td>2,5</td> </tr> <tr> <td>Північно-Східний</td> <td>60</td> <td>2,2</td> </tr> <tr> <td>Центральний</td> <td>25</td> <td>0,8</td> </tr> </tbody> </table> <p> 1 Північно-Східний 2 Центральний 3 Донецький 4 Придніпровський </p>	Економічні райони	Валовий регіональний продукт, млрд грн	Споживання електроенергії, млрд кВт•год	Донецький	120	3,6	Придніпровський	100	2,5	Північно-Східний	60	2,2	Центральний	25	0,8
Економічні райони	Валовий регіональний продукт, млрд грн	Споживання електроенергії, млрд кВт•год														
Донецький	120	3,6														
Придніпровський	100	2,5														
Північно-Східний	60	2,2														
Центральний	25	0,8														
57	<p>Розмістіть країни в порядку збільшення їхньої частки у світовому виробництві продукції машинобудування.</p> <p> 1 Болівія 2 Південна Африка 3 Китай 4 США </p>															
58	<p>Туристи-французи, повертаючись автомобілем із Києва, задумали відвідати історико-культурні об'єкти міст Європи, що внесені до списку Всесвітньої спадщини ЮНЕСКО. Розмістіть ці міста послідовно по маршруту Київ – Париж.</p> <p> 1 історичний центр Львова 2 Старе місто Кракова 3 музейний острів у Берліні 4 Люксембург </p>															