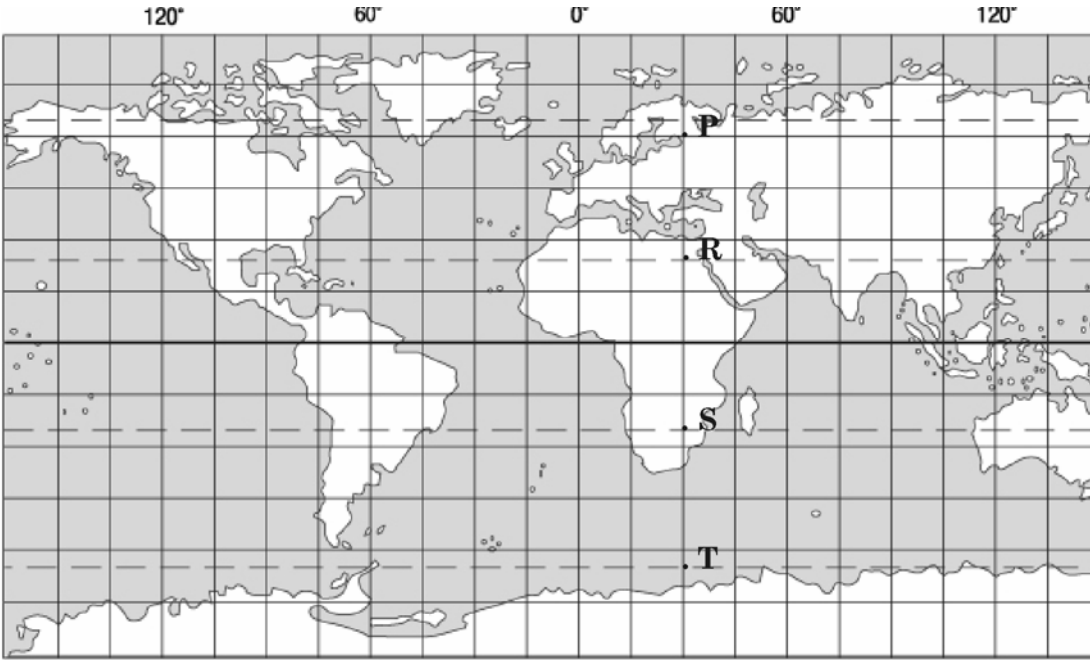


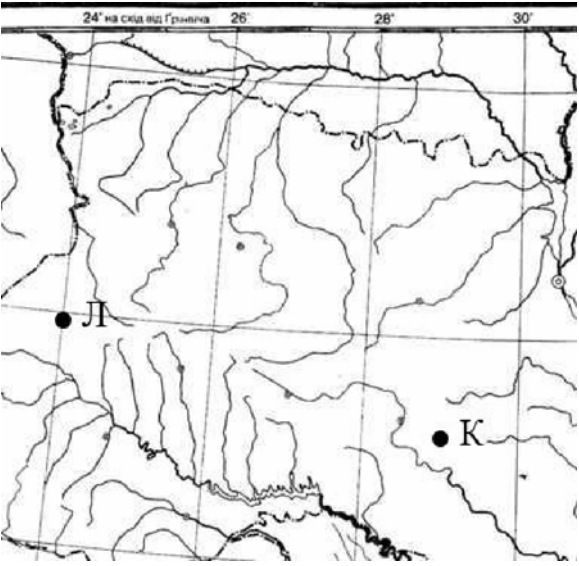
# Відповіді на завдання тесту з географії

		Джерела
<b>Завдання 1 – 40 мають по чотири варіанти відповіді, серед яких лише один правильний</b>		
<b>1</b>	Визначте, що вивчає наука географія <b>Відповідь:</b> природу земної поверхні, розміщення населення і господарства	Скуратович О.Я., Круглик Л.І., Коваленко Р.Р. Загальна географія: підруч. для 6 кл – К.: Зодіак-ЕКО, 2005. – 319с. § 1
<b>2</b>	Укажіть, в якій із вказаних на меридіані 30 сх. д. точок, позначених на карті буквами, сонце зійде 20 грудня найраніше за всесвітнім часом  <p style="text-align: center;"><b>Відповідь:</b> Т</p>	Скуратович О.Я., Круглик Л.І., Коваленко Р.Р. Загальна географія: підруч. для 6 кл – К.: Зодіак-ЕКО, 2005. – 319с. §5, 34 Пестушко В.Ю., Сасихов В.О., Уварова Г.Є. Географія материків і океанів: підруч. для 7 кл. серед.шк. – К.: Абрис, 2003. – 376с. §2
<b>3</b>	Знайдіть неправильне твердження щодо призначення приладу, який визначає параметри географічних явищ чи об'єктів. <b>Відповідь:</b> гігрометром вимірюють атмосферний тиск	Скуратович О.Я., Круглик Л.І., Коваленко Р.Р. Загальна географія: підруч. для 6 кл – К.: Зодіак-ЕКО, 2005.

		– 319с. §29,30
4	Укажіть шар, який не виділяють в материковому типі земної кори. <b>Відповідь:</b> метаморфічний	Пестушко В.Ю., Сасихов В.О., Уварова Г.Є. Географія материків і океанів: підруч. для 7 кл. серед.шк. – К.: Абрис, 2003. – 376с. §3
5	Укажіть якій водоймі, що містить у назві слово «море», відповідає географічне поняття «море». <b>Відповідь:</b> Охотське море	Скуратович О.Я., Круглик Л.І., Коваленко Р.Р. Загальна географія: підруч. для 6 кл – К.: Зодіак-ЕКО, 2005. – 319с. § 22
6	Укажіть, якому поняттю відповідає визначення: «кристали льоду, що осідають на гілках дерев, проводах тощо за туманної, морозної безвітряної погоди». <b>Відповідь:</b> паморозь	Скуратович О.Я., Круглик Л.І., Коваленко Р.Р. Загальна географія: підруч. для 6 кл – К.: Зодіак-ЕКО, 2005. – 319с. § 32 Шищенко П.Г., Муніч Н.В. Фізична географія України: Підруч. для 8 кл. загальноосвіт. навч. закл. – К.: Зодіак – ЕКО, 2005. – 256 с. §25
7	Укажіть, який меліоративний захід необхідно застосувати для зменшення кислотності ґрунту. <b>Відповідь:</b> вапнування	Скуратович О.Я., Круглик Л.І., Коваленко Р.Р. Загальна географія: підруч. для 6 кл – К.: Зодіак-ЕКО, 2005. – 319с. §66 Шищенко П.Г., Муніч Н.В. Фізична географія України: Підруч. для 8 кл. загальноосвіт. навч. закл. – К.: Зодіак – ЕКО, 2005. – 256 с. §33
8	Серед ознак, що характеризують Світовий океан, укажіть ту, що йому не властива.	Скуратович О.Я., Круглик Л.І., Коваленко Р.Р. Загальна географія:

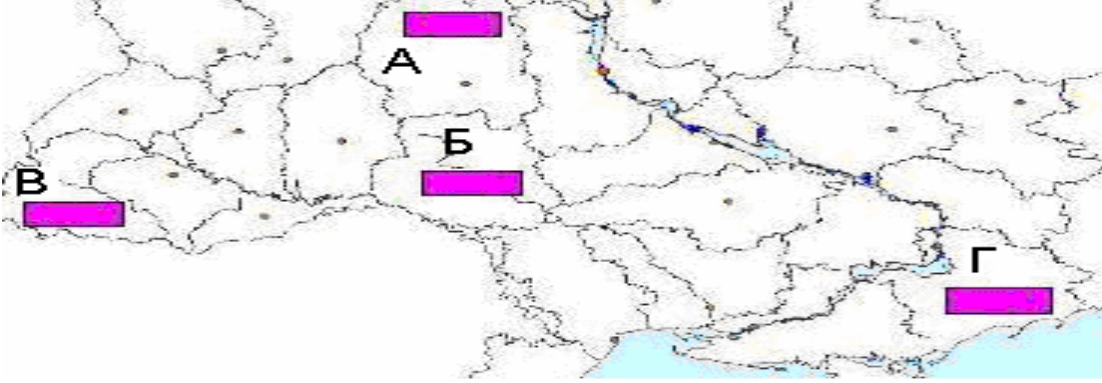
	<p><b>Відповідь:</b> рух води відбувається на поверхні, а у товщі і в придонних шарах – вода в стані спокою.</p>	<p>підруч. для 6 кл – К.: Зодіак-ЕКО, 2005. – 319с. §23  Пестушко В.Ю., Сасихов В.О.,  Уварова Г.Є. Географія материків і океанів: підруч. для 7 кл. серед.шк. – К.: Абрис, 2003. – 376с. §8</p>
9	<p>Укажіть гірську країну, що складається з кількох, витягнутих із півночі на південь паралельних гірських хребтів, які утворюють вузли з найбільшими вершинами: Аконкагуа, Котопахі, Чимборасо.  <b>Відповідь:</b> Анди</p>	<p>Пестушко В.Ю., Сасихов В.О.,  Уварова Г.Є. Географія материків і океанів: підруч. для 7 кл. серед.шк. – К.: Абрис, 2003. – 376с.  §42  Атлас для 7 класу. Географія материків і океанів ДНВП «К.артографія».</p>
10	<p>Укажіть причини значної (2000-3000 мм) кількості опадів на Тихоокеанському узбережжі у помірному кліматичному поясі Північної Америки.  <b>Відповідь:</b> повітряні маси з південного заходу піднімаються навітряним схилом Кордільєр</p>	<p>Пестушко В.Ю., Сасихов В.О.,  Уварова Г.Є. Географія материків і океанів: підруч. для 7 кл. серед.шк. – К.:Абрис, 2003. – 376с.  § 43, 44  Атлас для 7 класу. Географія материків і океанів. ДНВП «К.артографія».</p>
11	<p>Укажіть пору року і причину найбільшого річкового стоку на східному узбережжі Євразії.  <b>Відповідь:</b> влітку – мусонні дощі</p>	<p>Пестушко В.Ю., Сасихов В.О.,  Уварова Г.Є. Географія материків і океанів: підруч. для 7 кл. загальноосвіт. навч. закладів. – К.: Освіта, Шкільна освіта, 2003. – 256с. § 52, 53</p>
12	<p>Укажіть неправильне твердження щодо розташування природних зон Африки.  <b>Відповідь:</b> на рівнинній частині лісостеп займає лише північне узбережжя;</p>	<p>Пестушко В.Ю., Сасихов В.О.,  Уварова Г.Є. Географія материків і океанів: підруч. для 7 кл. серед.шк. – К.:Абрис, 2003. – 376с.</p>

		§26, 27. Атлас для 7 класу. Географія материків і океанів. ДНВП «К.артографія».
13	Укажіть тварину, що не є представником фауни Антарктики.  <b>Відповідь:</b> лемінг	Пестушко В.Ю., Сасихов В.О., Уварова Г.Є. Географія материків і океанів: підруч. для 7 кл. серед.шк. – К.:Абрис, 2003. – 376с. §41 Атлас для 7 класу. Географія материків і океанів. ДНВП
14	Укажіть головну причину забруднення південно-східного узбережжя Австралії.  <b>Відповідь:</b> концентрація великих міст і промислових підприємств	Пестушко В.Ю., Сасихов В.О., Уварова Г.Є. Географія материків і океанів: підруч. для 7 кл. серед. шк. – К.: Абрис, 2003. – 376с. § 42 – 47
15	Оберіть неправильне твердження щодо кордонів України.  <b>Відповідь:</b> морський – із Туреччиною	«Географія України». Атлас для 8 – 9 класів ДНВП «Картографія» «Географія України». Атлас для 8 – 9 класів Інститут передових технологій.

<p><b>16</b></p>	<p>Розгляньте фрагмент контурної карти. Визначте місцевий час у пункті Л, якщо у пункті К за місцевим часом у цей момент 13 година 04 хвилини.</p>  <p><b>Відповідь:</b> 12 год 44 хв;</p>	<p>Масляк П.О., Шищенко П.Г. Географія України: Підруч. для 8 – 9 кл. серед. шк. К.: Зодіак- ЕКО, 2004. – 432 с. Чернов Б. В. Фізична географія України, підруч для 8 кл, - К.: Освіта, 2002. – 254 с. Гілецький Й.Р. Географія України (Фізична географія з основами загального землезнавства): Підруч. для 8 класу. – Львів: ВНТЛ-Класика, 2003. – 150 с. §4</p>
<p><b>17</b></p>	<p>Укажіть тектонічну структуру на якій розташований Словечансько-Овруцький кряж. <b>Відповідь:</b> Український кристалічний щит</p>	<p>Заставний Ф.Д. Фізична географія України. Підруч. для 8 кл. – К.:, 2003, - 239с §15</p>
<p><b>18</b></p>	<p>Укажіть, яким умовним знаком позначають на карті родовища корисних копалин: Білозерське, Керченське, Криворізьке. <b>Відповідь:</b> ▲</p>	<p>Гілецький Й.Р. Географія України (Фізична географія з основами загального землезнавства): Підруч. для 8 класу. – Львів: ВНТЛ-Класика, 2003. – 150 с. §11 Скуратович О.Я., Круглик Л.І., Коваленко Р.Р. Загальна географія:</p>

		підруч. для 6 кл – К.: Зодіак-ЕКО, 2005. – 319с. §13
19	Укажіть, для якої групи ресурсів використовують такі показники: тепло забезпеченість, ступінь зволоженості, континентальність клімату. <b>Відповідь:</b> агрокліматичні	Шищенко П.Г., Муніч Н.В. Фізична географія України: Підруч. для 8 кл. загальноосвіт. навч. закл. – К.: Зодіак – ЕКО, 2005. – 256 с. §33
20	Укажіть, до басейну якої річки відносяться притоки: Збруч, Серет, Лімниця, Стрий. <b>Відповідь:</b> Дністер;	Чернов Б. В. Фізична географія України, підр. для 8 кл, - К.: Освіта, 2002. – 254 с §24
21	Визначте, для якого регіону України характерні сухостепові сопкові, сухостепові рівнинно-височинні, лісостепові (дубово-грабові шиблякові передгірні), лучні остепнені (яйлинські), субсередземноморські прибережно-схиліві ландшафти. Відповідь: Крим	Масляк П.О., Шищенко П.Г. Географія України: підруч. Для 8 – 9 кл. серед. шк. К.: Зодіак-ЕКО, 2004. – 432с.
22	Укажіть, які з природно-заповідних об'єктів є національними природними парками. <b>Відповідь:</b> Шацький, Синевир, Святі гори	Заставний Ф.Д. Фізична географія України: підруч. для 8 кл. – К.:, 2003, - 239с., §24 Чернов Б.В. Фізична географія України, підруч. Для 8 кл, - к.: Освіта, 2002. – 254с., §50
23	Укажіть, якому поняттю відповідає визначення: «встановлення виробничих взаємозв'язків між спеціалізованими підприємствами, які спільно працюють над виробництвом складної продукції». <b>Відповідь:</b> кооперування	Дітчук І. Л., Заставецька О. В., Ткач Д.В. Географія України: навч. посібник. – Тернопіль: Навчальна книга – Богдан, 2003, 2006. – 168 с. Тема 3 «Промисловість» с.53
24	Укажіть, біля якої з атомних електростанцій України знаходиться місто-супутник Енергодар.	Масляк П.О. Економічна і соціальна географія України: підруч. для 9 кл.

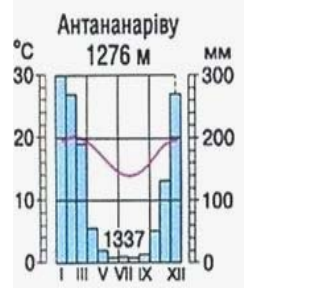
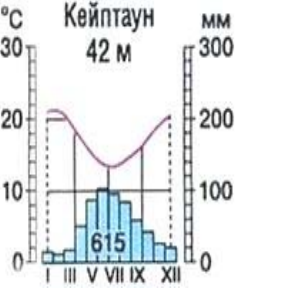
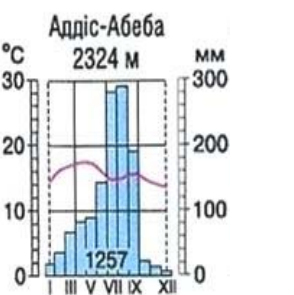
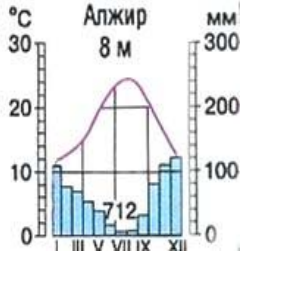
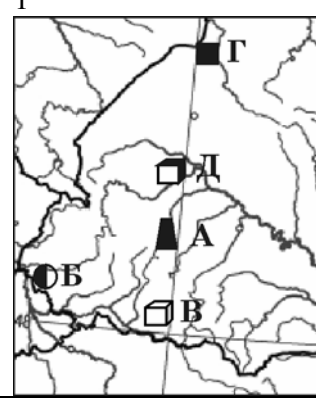
	<b>Відповідь:</b> Запорізької					загально освіт. навч. закл. – Педагогічна преса , 2005. – 288с. Заставний Ф.Д. Економічна і соціальна географія України: Підруч. для 9 кл. – К.: Форум, 2003. – 239с.
<b>25</b>	Оберіть правильний варіант ланцюга виробництва продукції в Україні «місто – галузь – підприємство – продукція – чинник розміщення». <b>Відповідь:</b>					Заставний Ф.Д. Економічна і соціальна географія України: Підруч. для 9 кл. – К.: Форум, 2003. – 239с. §29. Сиротенко А.Й. Економічна і соціальна географія України: Підруч. для 9 кл. загальноосв. навч. закл. – К.: Освіта, 2001. – 222 с. §53 Атлас «Географія України» для 8 – 9 класів Інститут передових технологій, 2003
	<b>Місто</b>	<b>Галузь</b>	<b>Виробництво</b>	<b>Продукція</b>	<b>Фактор розміщення</b>	
	А Миколаїв	кольорова металургія	глиноземний завод	глинозем	транспортний	
<b>26</b>	Укажіть неправильне твердження про соціальну сферу в Україні. <b>Відповідь:</b> рівень розвитку сфери в аграрних регіонах вищий, ніж у промислових					Дітчук І. Л., Заставецька О. В., Ткач Д.В. Географія України: навч. посібник. – Тернопіль: Навчальна книга – Богдан, 2003, 2006. – 168 с. Тема 3 «Промисловість» с.53
<b>27</b>	Визначте, який із позначених буквами районів України за агрокліматичними умовами найбільш придатний для вирощування цукрового буряка.					Заставний Ф.Д. Економічна і соціальна географія України: Підруч. для 9 кл. – К.: Форум, 2003. – 239с. §25 Атлас «Географія України» для 8 – 9 класів. Інститут передових технологій, 2003


	 <p><b>Відповідь: Б</b></p>					
28	<p>Оберіть населені пункти України, які стали курортами завдяки джерелам мінеральних вод з лікувальними властивостями.  <b>Відповідь:</b> Хмільник, Слов'янськ, Свалява;</p>	<p>Заставний Ф.Д. Економічна і соціальна географія України: Підруч. для 9 кл. – К.: Форум, 2003. – 239с. §39          Атлас «Географія України» для 8 – 9 класів. Інститут передових технологій, 2003</p>				
29	<p>Укажіть, який із промислових центрів не знаходиться у Донецькому економічному районі.  <b>Відповідь:</b> Кременчук</p> <p>В</p>	<p>Масляк П.О. Економічна і соціальна географія України: підруч.для 9 кл. загальноосвіт. навч. закл. – Педагогічна преса , 2005. – 288с §52</p>				
30	<p>Укажіть економічний район, де у переліку продукції галузей спеціалізації є хоча б одна, що не характерна для його спеціалізації.  <b>Відповідь:</b></p> <table border="1" data-bbox="219 1289 1366 1364"> <thead> <tr> <th data-bbox="219 1289 667 1329">Економічний р- н</th> <th data-bbox="667 1289 1366 1329">Продукція галузей спеціалізації</th> </tr> </thead> <tbody> <tr> <td data-bbox="219 1329 667 1364">Подільський</td> <td data-bbox="667 1329 1366 1364">цукор, річкові судна, фосфатні добрива</td> </tr> </tbody> </table>	Економічний р- н	Продукція галузей спеціалізації	Подільський	цукор, річкові судна, фосфатні добрива	<p>Заставний Ф.Д. Економічна і соціальна географія України: Підруч. для 9 кл. – К.: Форум, 2003. – 239с. §31          Атлас «Географія України» для 8 – 9 класів, ДНВП «Картографія», 2003</p>
Економічний р- н	Продукція галузей спеціалізації					
Подільський	цукор, річкові судна, фосфатні добрива					
31	<p>Укажіть, як називається акваторія моря, що перебуває під контролем прибережної держави на відстані 200 морських миль від берега.  <b>Відповідь:</b> виключна економічна зона</p>	<p>Яценко Б. П. Економічна і соціальна географія зарубіжних країн: Підруч. для 10 кл.–</p>				









		К.: Форум, 2004. – с. 248 с. § 1 Топузов О.М., Тименко Л.В. Економічна і соціальна географія світу: Підруч. для 10 кл. загальноосвіт. навч. закладів. – К.: Зодіак-ЕКО, §29
32	Укажіть міжнародну організацію, членом якої є Азербайджан. <b>Відповідь:</b> ГУАМ	Яценко Б.П. Економічна і соціальна географія зарубіжних країн: Підруч. для 10 кл. – К.: Форум, 2004. – с. 248 с. § 30
33	Укажіть головний чинник того, що переважна більшість країн Африки належить до країн, що розвиваються. <b>Відповідь:</b> низький рівень розвитку продуктивних сил і характер виробничих відносин	Яценко Б.П. Економічна і соціальна географія зарубіжних країн: Підруч. для 10 кл. – К.: Форум, 2004. – с. 248 с. §61,62
34	Укажіть, в якому регіоні США знаходиться мегалополіс Сансан. <b>Відповідь:</b> Каліфорнія	Яценко Б.П. Економічна і соціальна географія зарубіжних країн: Підруч. для 10 кл. К.: Форум, 2004. – с. 248 с. § 9
35	Розгляньте діаграму співвідношення виробленої енергії різними типами електростанцій у країні, що імпортує 4/5 енергоресурсів. Укажіть цю країну. <b>Відповідь:</b> Японія	Яценко Б.П. Економічна і соціальна географія зарубіжних країн: Підруч. для 10 кл– § 21,32, 39, 48, К.: Форум, 2004. – с. 248 с. . §18, 31,48, 55
36	Визначте, у якому історико-географічному районі Китаю господарський профіль визнач ають паливно-енергетичний, металургійний, лісопромисловий комплекси, багатогалузеве сільське господарство, а також міста Аньшань, Харбін, Далянь. <b>Відповідь:</b> Північний Схід	Яценко Б.П. Економічна і соціальна географія зарубіжних країн: Підруч. для 10 кл. – К.: Форум, 2004. – с. 248 с. §49
37	Укажіть металургійну базу, формування якої було зорієнтовано на розміщення залізрудного басейну. <b>Відповідь:</b> Урал	Яценко Б.П. Економічна і соціальна географія зарубіжних країн: Підруч. для 10 кл. . – К.: Форум, 2004. – с. 248 с. §55


38	<p>Укажіть серед європейських країн лідера з виробництва легкових автомобілів.</p> <p><b>Відповідь:</b> ФРН</p>	<p>Яценко Б.П. Економічна і соціальна географія зарубіжних країн: Підруч. для 10 кл. – К.: Форум, 2004. – с. 248 §23,31 Економічна і соціальна географія. Атлас для 10-11 класів Інститут передових технологій .</p>
39	<p>З'ясуйте, для якої групи країн характерний екстенсивний тип ведення сільського господарства.</p> <p><b>Відповідь:</b> Афганістан, Бангладеш, Пакистан</p>	<p>Яценко Б.П. Економічна і соціальна географія зарубіжних країн: Підруч. для 10 кл. – К.: Форум, 2004. – с. 248 с. §24, 47 Економічна і соціальна географія світу Атлас для 10-11 класів</p>
40	<p>Укажіть, якої спеціалізації набувають європейські центри Кембридж, Мюнхен, Ніцца.</p> <p><b>Відповідь:</b> науково-дослідні парки</p>	<p>Яценко Б.П. Економічна і соціальна географія зарубіжних країн: Підруч. для 10 кл. – К.: Форум, 2004. – с. 248 с. § 29</p>
<p><b>У завданнях 41 – 50 до кожного з чотирьох рядків інформації позначених цифрами, необхідно вибрати один правильний варіант, що позначений буквою.</b></p>		
41	<p>Установіть відповідність між геосферами та їхніми компонентами.</p> <p><b>Відповідь:</b> атмосфера – озон; біосфера - водорість; гідросфера – сніг; літосфера – пісок</p>	<p>Скуратович О.Я., Круглик Л.І., Коваленко Р.Р. Загальна географія: підруч. для 6 кл – К.: Зодіак-ЕКО, 2005. – 319с. §10, 16, 26, 37, 40.</p>

<p>42</p>	<p>Установіть відповідність між типами клімату та кліматограмами.  <b>Відповідь:</b> субтропічний клімат Північної півкулі – Г; субтропічний клімат Південної півкулі – Б; субекваторіальний клімат Північної півкулі – В; субекваторіальний клімат Південної півкулі – А</p>		
 <p>Антананаріву 1276 м</p>	 <p>Кейптаун 42 м</p>	 <p>Аддіс-Абеба 2324 м</p>	 <p>Алжир 8 м</p>
<p>А</p>	<p>Б</p>	<p>В</p>	<p>Г</p>
<p>43</p>	<p>1</p> 	<p>Установіть відповідність між назвами родовищ корисних копалин та їхніми зображеннями, позначеними буквами на фрагменті контурної карти</p>	<p>Чернав Б.В. Фізична географія України, підруч. Для 8 кл, - Київ: Освіта, 2002. - 254с. §12  Сиротенко А.Й. Економічна і соціальна географія України: Підруч. для 9 кл. загальноосв. навч. закл. – К.: Освіта, 2001. – 222 с. §14  Атлас «Географія України» для 8 – 9 класів ДНВП «Картографія»</p>
	<p><b>Відповідь :</b> Долинське-А, Мужіївське-Б, Солотвинське-В, Стебниківське-Д</p>		

<p>44</p>	<p>Розгляньте космічний знімок. Встановіть відповідність між інформацією про певні акваторії (позначені цифрами), та акваторіями (позначені на космічному знімку буквами).</p>  <p><b>Відповідь</b> :грабен альпійського горотворення – Д схил палеозойської Скіфської плити – В протока що розділяє місто – на європейську і азійську частини – А схил давньої докембрійської Східноєвропейської платформи – Г</p>	<p>Заставний Ф.Д. Фізична географія України. Підруч. для 8 кл. – К.: 2003, - 239с. § 28 Чернов Б.В. Фізична географія України, підруч. Для 8 кл, - к.:Освіта,2002. – 254с. §48, 49 Яценко Б.П. Економічна і соціальна географія зарубіжних країн: Підруч. для 10 кл. – К.: Форум, 2004. – с. §53</p>
<p>46</p>	<p>Установіть відповідність між характеристиками галузей тваринництва України та їхніми назвами.</p>	<p>Сиротенко А.Й. Економічна і соціальна географія України: Підруч. для 9 кл. загальноосв. навч. закл. – К.: Освіта, 2001. – 222 с. §29</p>

	<p>найдавніший напрямок у тваринництві України; у південних регіонах розводять тонкорунну асканійську породу, у Карпатах смушкове виробництво, з молока виготовляють бринзу – вівчарство; займає провідне місце у тваринництві України, забезпечує сировиною виробництво м'ясних продуктів, сиру, шкіряне виробництво; поширені породи: червона степова, сіра українська, чорно-ряба – скотарство; виробництво поширене в усіх областях, створено багато ферм, проводиться племінна робота; поширені породи: карпатська, поліська, степова; завдяки способу годівлі цих тварин зростають урожаї сільськогосподарських культур (гречки, соняшника, плодкових) – бджільництво; найбільше розвивається у приміських вузькоспеціалізованих господарствах, поширені породи :миргородська, українська біла, чорно-ряба; не розвивається у мусульманських країнах – свинарство.</p>	<p>Масляк П.О. Економічна і соціальна географія України: підруч.для 9 кл. загально освіт. навч. зал. – Педагогічна преса , 2005. – 288с §43  Заставний Ф.Д. Економічна і соціальна географія України: Підруч. для 9 кл. – К.: Форум, 2003. – 239с. §26</p>
<p><b>46</b></p>	<p>Установіть відповідність між центрами художніх промислів та областями України.</p> <p><b>Відповідь:</b> Кролевець (художнє ткацтво) – Сумська; Опішня (кераміка і килимарство) – Полтавська; Косів (ткацтво, різьблення по дереву) –;Івано-Франківська; Петриківка (декоративний розпис). – Дніпропетровська.</p>	<p>Заставний Ф.Д. Економічна і соціальна географія України: Підруч. для 9 кл. – К.: Форум, 2003. – 239с. §15  Масляк П.О. Економічна і соціальна географія України: підруч.для 9 кл. загально освіт. навч. зал. – Педагогічна преса , 2005. – 288с §37.  Атлас «Географія України» для 8 – 9 класів. Інститут передових технологій, 2003</p>
<p><b>47</b></p>	<p>Установіть відповідність між туристськими об'єктами України та економічними районами, в яких знаходяться вказані об'єкти.</p> <p><b>Відповідь:</b> Херсонес – Причорноморський; Софійський собор – Столичний; Чернеча гора –</p>	<p>Масляк П.О. Економічна і соціальна географія України: підруч.для 9 кл. загально освіт. навч. зал. – Педагогічна преса , 2005. – 288с §51, 53, 54, 55.  Сиротенко А.Й. Економічна і соціальна географія України Підруч. для 9 кл. загальноосв. навч. закл. – К.: Освіта, 2001. – 222</p>

	Центральний; архітектурний комплекс старого Львова–Карпатський..	с. §53 Атлас « Географія України» для 8 – 9 класів, ДНВП «Картографія», 2003									
48	Установіть відповідність між країнами й поширеними в них та релігіями та релігійними гілками; <b>Відповідь:</b> Іран – іслам; Греція – православ'я; Франція – католицизм; Австралія – протестантизм.	Яценко Б.П. Економічна і соціальна географія зарубіжних країн: Підруч. для 10 кл. . – Прок-Бізнес, 2004 6, 10, 20, 28, 30 Атлас для 10 – 11 класів. «Економічна і соціальна географія світу» ДНВП «Картографія» 2003-2007рр.									
49	Установіть відповідність між країнами Латинської Америки та їхніми характеристиками. <b>Відповідь:</b> «Острів свободи», один із лідерів вирощування і експорту цукрової тростини – Куба; серед пам'яток всесвітньої культурної спадщини – столиця інків Куско, Мачу Пікчу – Перу; найбільші запаси, але не лідер з експорту нафти у регіоні – Венесуела; «тропічний гігант», ВВП більший ніж у Канаді, експортує автомобілі – Бразилія.	Яценко Б.П. Економічна і соціальна географія зарубіжних країн: Підруч. для 10 кл. – Прок-Бізнес, 2004 § 58-60									
50	Укажіть відповідність між країнами та зображеннями визначних об'єктів, в яких вони знаходяться.	Яценко Б.П. Економічна і соціальна географія зарубіжних країн: Підруч. для 10 кл. – Прок-Бізнес, 2004 §32, 33, 34, 41, 54									
	<table border="1" style="width: 100%; text-align: center;"> <tr> <td style="width: 33%;">А</td> <td style="width: 33%;">Країни</td> <td style="width: 33%;">Б</td> </tr> <tr> <td></td> <td></td> <td></td> </tr> <tr> <td>В</td> <td>Г</td> <td>Д</td> </tr> </table>	А	Країни	Б				В	Г	Д	
А	Країни	Б									
											
В	Г	Д									



**Відповідь:** Росія – В, Італія – А; США – Г; Велика Британія – Д

**У завданнях 51 – 60 необхідно розташувати запропоновані факти у правильній послідовності.**

**51** Розташуйте послідовно напрямки, починаючи від найменшого значення їхнього азимута.  
  
**Відповідь** північний схід – схід – південний захід – захід

Скуратович О.Я., Круглик Л.І., Коваленко Р.Р. Загальна географія: підруч. для 6 кл – К.: Зодіак-ЕКО, 2005. – 319с. § 2  
Пестушко В.Ю., Сасихов В.О., Уварова Г.Є. Географія материків і океанів: підруч. для 7 кл. серед.шк. – К.: Абрис, 2003. – 376с. § 21, 30, 40

**52** Розташуйте імена мандрівників у тій послідовності, в якій знаходяться відповідні їм географічні об’єкти, що позначені на карті, починаючи від лінії зміни дат зі сходу на захід.

**Відповідь:** Семен Челюскін – Вільям Баренц – Генрі Гудзон – Александр Маккензі.

Скуратович О.Я., Круглик Л.І., Коваленко Р.Р. Загальна географія: підруч. для 6 кл – К.: Зодіак-ЕКО, 2005. – 319с.  
Корнеєв В.П., Герасимчук В.М., Пічугін Б.В. Географія материків і океанів: підруч. для 7 кл. загально освіт. навч. закладів. – К.: Освіта, Шкільна освіта, 2003. – 256с



с.81– 82, 89–91.  
Атлас для 7 класу. Географія материків і океанів. ДНВП «Картографія».  
Атлас для 10-11 класів Інститут передових технологій .

<b>53</b>	<p>Укажіть послідовно з півночі на південь річки Африки за розташуванням їхніх гирл.</p> <p><b>Відповідь:</b> Ніл – Нігер – Конго – Замбезі</p>	<p>Пестушко В.Ю., Сасихов В.О., Уварова Г.Є. Географія материків і океанів: підруч. для 7 кл. серед.шк. – К.:Абрис, 2003. – 376с. §8          Атлас «Географія материків і океанів» для 7 класу, ДНВП «Картографія»</p>
<b>54</b>	<p>Розташуйте послідовно твори, де подано географічний опис України, зважаючи на час їх написання, починаючи від найдавнішого.</p> <p><b>Відповідь:</b>          «Опис України» Гійома Левассера де Боплана –          «Труды этнографическо-статистической экспедиции въ Западно-Русскій край» у 7-ми томах Павла Чубинського –          «Коротка географія України. Антропогеографія» Степана Рудницького –          «Українська географічна енциклопедія» у 3-х томах (за редакцією члена-кореспондента НАН України Олександра Маринича).          ;</p>	<p>Шищенко П.Г., Муніч Н.В. Фізична географія України: Підруч. для 8 кл. загальноосвіт. навч. закл. – К.: Зодіак – ЕКО, 2005. – 256 с. §11.          Гілецький Й.Р. Географія України (фізична географія з основами загального землезнавства). Підручник для 8 класу. – Львів: ВНТЛ-Класика, 2003, § 2.</p>
<b>55</b>	<p>Розташуйте послідовно зі сходу на захід ландшафтні краї лісостепової зони України.</p> <p><b>Відповідь:</b> Середньоруський – Лівобережно-Дніпровський – Дністровсько-Дніпровський – Західноукраїнський.</p>	<p>Чернов Б.В. Фізична географія України, підруч. для 8 кл, - к.:Освіта,2002. – 254с §35,36.          Шищенко П.Г., Муніч Н.В. Фізична географія України: Підруч. для 8 кл. загальноосвіт. навч. закл. – К.: Зодіак – ЕКО, 2005. – 256 с. §41.          Атлас«Географія України» для 8 – 9 класів. Інститут передових технологій, 2003</p>
<b>56</b>	<p>Розташуйте послідовно міста України за кількістю населення, починаючи від найменшої.</p> <p><b>Відповідь:</b> Сімферополь – Львів – Одеса – .Харків.</p>	<p>Заставний Ф.Д. Економічна і соціальна географія України: Підруч. для 9 кл. – К.: Форум, 2003. – 239с §6 – 8</p>



		Масляк П.О. Економічна і соціальна географія України: підруч.для 9 кл. загально освіт. навч. зал. – Педагогічна преса , 2005. – 288с. §13															
57	Розташуйте історико-етнографічні землі України в тій часовій послідовності, у якій вони заселялися й освоювалися українцями. <b>Відповідь:</b> Волинь – Запоріжжя – Слобожанщина – Таврія	Заставний Ф.Д. Економічна і соціальна географія України: Підруч. для 9 кл. – К.: Форум, 2003. – 239с § 4 Масляк П.О. Економічна і соціальна географія України: підруч.для 9 кл. загально освіт. навч. зал. – Педагогічна преса , 2005. – 288с. §5, 6															
58	Розташуйте міжнародні організації та об'єднання у тій послідовності, в якій вони були створені із зазначеними назвами (не враховуючи організації, що були їхніми попередниками).  Організація Об'єднаних Націй – Організація Північноатлантичного Договору – Співдружність Незалежних Держав – Європейський Союз	Яценко Б.П. Економічна і соціальна географія зарубіжних країн: Підруч. для 10 кл. – Прок-Бізнес, 2004 §6 Атлас «Економічна і соціальна географія світу»ДНВП «Картографія» 2003-2007рр. Атлас «Економічна і соціальна географія світу»для 10-11 класів Інститут передових технологій.															
59	Розгляньте таблицю. Визначте ресурсозабезпеченість нафтою вказаних країн. Розташуйте їх у порядку збільшення цього показника.	Яценко Б.П. Економічна і соціальна географія зарубіжних країн: Підруч. для 10 кл. . – Прок-Бізнес, 2004 §8 Атлас «Економічна і соціальна географія світу» ДНВП «Картографія» 2003-2007рр.															
	<table border="1"> <thead> <tr> <th>Країна</th> <th>Розвідані запаси, млрд т</th> <th>Видобуток, млрд т</th> </tr> </thead> <tbody> <tr> <td>А Саудівська Аравія</td> <td>45,1</td> <td>450</td> </tr> <tr> <td>Б ОАЕ</td> <td>16,2</td> <td>120</td> </tr> <tr> <td>В Росія</td> <td>6,7</td> <td>300</td> </tr> <tr> <td>Г США</td> <td>3,8</td> <td>380</td> </tr> </tbody> </table>	Країна	Розвідані запаси, млрд т	Видобуток, млрд т	А Саудівська Аравія	45,1	450	Б ОАЕ	16,2	120	В Росія	6,7	300	Г США	3,8	380	
Країна	Розвідані запаси, млрд т	Видобуток, млрд т															
А Саудівська Аравія	45,1	450															
Б ОАЕ	16,2	120															
В Росія	6,7	300															
Г США	3,8	380															
	<b>Відповідь:</b> США – Росія – Саудівська Аравія – ОАЕ																

60	<p>Розпізнайте за поданим описом та зображенням на космічному знімку географічні об'єкти, що зазнали значного антропогенного впливу. Розташуйте їх послідовно, починаючи із заходу.</p> <p><b>Відповідь:</b>  море, що омиває береги трьох частин світу, раніше одне з найпрозоріших, а тепер дуже забруднене – море, в якому рівень сірководневого шару піднімається до поверхні через інтенсивне забруднення річковим стоком – море-озеро, що забруднюється через річковий стік, видобуток нафти, на шельфі та узбережжі, омиває береги п'яти держав – море-озеро, що зникає через порушення річкового стоку Амудар'ї та Сирдар'ї.</p>	<p>Пестушко В.Ю., Сасихов В.О., Уварова Г.Є. Географія материків і океанів: підруч. для 7 кл. серед.шк. – К.:Абрис, 2003. – 376с. §17</p> <p>Яценко Б.П. Економічна і соціальна географія зарубіжних країн: Підруч. для 10 кл. . – Прок-Бізнес, 2004. § 45, 46, 52</p> <p>Атлас «Економічна і соціальна географія світу» ДНВП «Картографія» 2003-2007рр</p>